
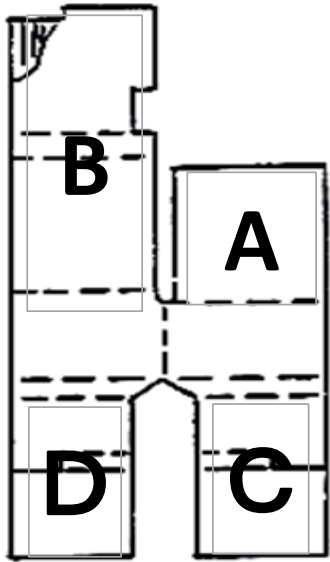




課題図① 「コーナーの組立」^{くみだて}




①Aを^{てまえ}手前に^お折ります



②①^{ひだりがわ}左側に^{たお}倒します



③Bを^{てまえ}手前に^お折ります




④Bの^{うえはんぶん}上半分をAを^ま巻き込^まむ^{よう}様に^お折ります



⑤^む向きを^か変えます




⑥Cの^{うえ}上を^お折ります



⑦⑥で折った部分を^お巻き込^まむ^{よう}様に^お折ります



⑧Dの^{うえ}上を^お折ります



⑨⑧で折った部分を^お巻き込^まむ^{よう}様に^お折ります



完成！！

出来上がった物は同じ向きに置いて下さい^{できあ} ^{もの} ^{おな} ^む ^お ^{くだ}